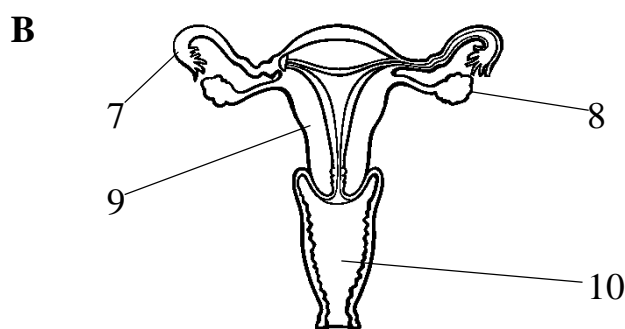
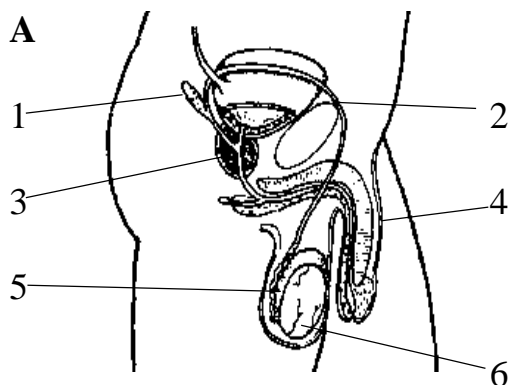


Nome: \_\_\_\_\_

N.º \_\_\_\_ Turma \_\_\_\_

Data: 03/ 10/ 2019

A figura seguinte representa os aparelhos reprodutores (A) masculino e (B) feminino.



a) Faz a legenda dos números das figuras.

1 \_\_\_\_\_

2 \_\_\_\_\_

3 \_\_\_\_\_

4 \_\_\_\_\_

5 \_\_\_\_\_

6 \_\_\_\_\_

7 \_\_\_\_\_

8 \_\_\_\_\_

9 \_\_\_\_\_

10 \_\_\_\_\_

b) Indica a função dos órgãos:

• 2 \_\_\_\_\_

• 4 \_\_\_\_\_

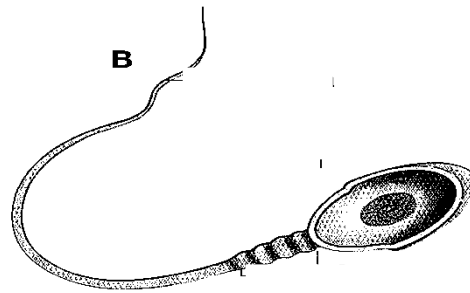
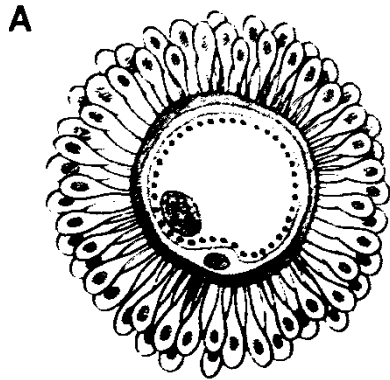
• 6 \_\_\_\_\_

• 8 \_\_\_\_\_

• 9 \_\_\_\_\_

• 10 \_\_\_\_\_

2. Identifica as estruturas representadas em A e B



A \_\_\_\_\_

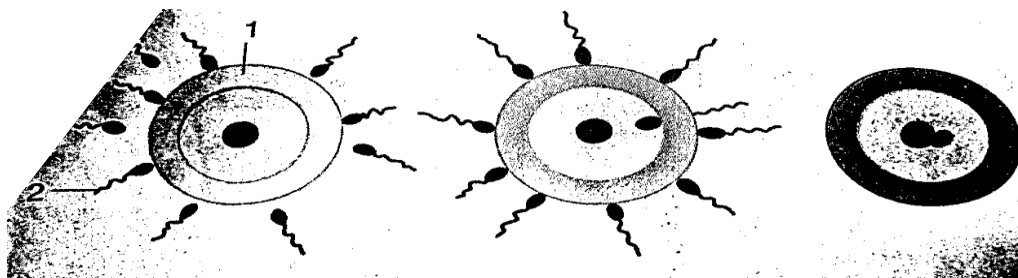
B \_\_\_\_\_

3. Define o conceito de ovulação.

\_\_\_\_\_

\_\_\_\_\_

4. Observa a figura abaixo.



a) Identifica a acção representada.

\_\_\_\_\_

\_\_\_\_\_

b) Faz a legenda dos números:

1 - \_\_\_\_\_

2 - \_\_\_\_\_

5. Descreve o que acontece a um óvulo que não seja fecundado.

\_\_\_\_\_

\_\_\_\_\_

**Boa exercitação!**

Assinatura do Encarregado de Educação

\_\_\_\_\_