



1ª Classe

FICHA DE TRABALHO DE Matemática



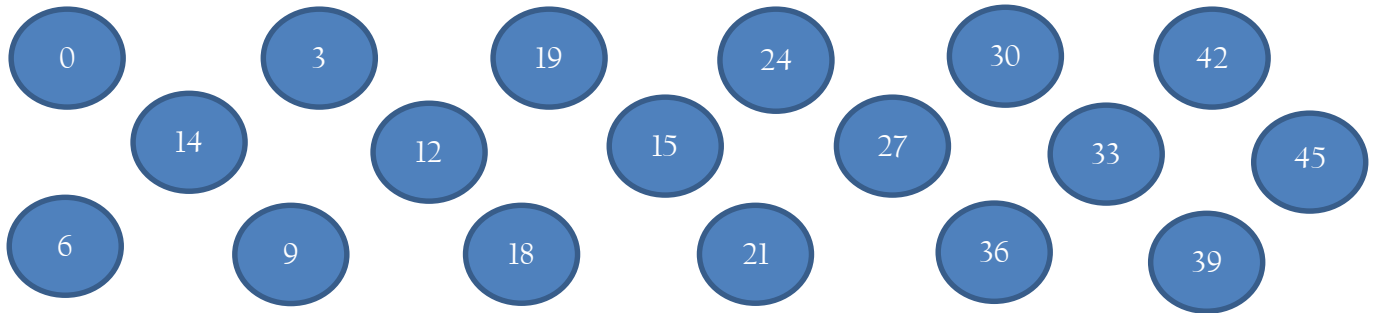
Nome: _____

N.º _____ Turma _____

Data: 03/ 10/ 2019

1. Escreve os números naturais de 0 até 45.

2. Faça setas obedecendo a contagem de 3 em 3, de 0 à 45.



3. Completa com os números antes e/ou depois.

12		
	18	
		24
	30	
39		

21		
	31	
		41
	10	
19		

4. Completa a decomposição.


$$30 + \underline{\quad} = 35 \quad \underline{\quad} + \underline{\quad} = 28 \quad \underline{\quad} - 6 = 30 \quad \underline{\quad} - 0 = 20$$
$$\underline{\quad} + 2 = 42 \quad 10 + \underline{\quad} = 19 \quad 42 - \underline{\quad} = 40 \quad \underline{\quad} - 9 = 20$$

5. Calcula.


$$25 + 6 = \underline{\quad} \quad 18 + 12 = \underline{\quad} \quad 29 - 8 = \underline{\quad} \quad 35 - 9 = \underline{\quad}$$
$$12 + 9 = \underline{\quad} \quad 29 + 9 = \underline{\quad} \quad 42 - 6 = \underline{\quad} \quad 45 - 0 = \underline{\quad}$$

6. Desenha:

a) Linha aberta



b) Linha fechada



Bom trabalho!